



**ROTEIRO DE ATIVIDADES COMPLEMENTARES DE ESTUDO
COVID 19 – 26º /27º ROTEIRO
ESCOLA MUNICIPAL MARIA DO CARMO CAMPOS**

PROFESSORAS: MEIRE, SILVANA PERÍODO: SRM MATUTINO E

VESPERTINO

**COMPONENTES CURRICULARES: LÍNGUA PORTUGUESA, MATEMÁTICA E
PSICOMOTRICIDADE**

PERÍODO DE REALIZAÇÃO: 26º ROTEIRO 30/08 A 03/09/2021

27º ROTEIRO 08 A 10/09/2021

3º ANO

NOME DO ALUNO: _____

Senhores pais e responsáveis

Seu filho deverá realizar todas as atividades e colocá-las no saquinho ou envelope. Ele terá o período de 30 de AGOSTO a 10 de SETEMBRO para concluir essas atividades. Cuidem-se e cuidem de sua família. Em breve tudo estará bem.

Um abraço,
Professora

VÍDEO ÁUDIO PROFESSOR	OU DO Pelo watts no dia da aula.
O QUE VOCÊ VAI ESTUDAR:	<p>26º ROTEIRO</p> <ul style="list-style-type: none"> ➤ <u>Língua Portuguesa</u>: Leitura e interpretação da cantiga, rimas, caça palavras, separação de sílabas, formação de frases; ➤ <u>Matemática</u>: Sequência numérica, composição de números, operações, situação problema; ➤ <u>Psicomotricidade</u>: Coordenação motora fina para pintar, recortar e montar o soldadinho articulado com barbante; <p>27º ROTEIRO</p> <ul style="list-style-type: none"> ➤ <u>Língua Portuguesa</u>: Leitura de texto informativo e interpretação, formação de palavras. ➤ <u>Matemática</u>: Operações de adição e composição de dezenas. <u>Psicomotricidade</u>: Pintura, recorte e colagem.



PARA QUE VAMOS ESTUDAR ESSES CONTEÚDOS?	26º ROTEIRO -Ler e interpretar a cantiga, identificar as rimas, encontrar as palavras, separar as sílabas e formar frases; - Completar as sequências numéricas, compor os números, resolver as operações e a situação problema; - Desenvolver a coordenação motora fina ao pintar, recortar e montar o soldadinho articulado com barbante; 27º ROTEIRO - Ler, conhecer e interpretar o texto “Independência do Brasil”, formar palavras; - Resolver adições e compor dezenas; - Aprimorar a coordenação motora fina ao pintar, recortar e colar
COMO VAMOS ESTUDAR OS CONTEÚDOS?	- Selecione as atividades diárias conforme orientação da professora; - Faça a leitura das atividades selecionadas, em seguida desenvolva-as na mesma folha a qual ela está inserida. - Lembre-se de datar as páginas.
COMO VAMOS REGISTRAR O QUE APRENDEMOS?	Organize seus estudos!! Vamos registrar nossos estudos através da leitura, interpretação, rimas, caça palavras, frases, separação de sílaba, sequência numérica, composição, operações, situação problema, montagem do boneco articulado; Coloque a data em que irá realizar as atividades e coloque-as dentro do saquinho.



26º ROTEIRO

LÍNGUA PORTUGUESA

MARCHA SOLDADO

MARCHA SOLDADO
CABEÇA DE PAPEL
SE NÃO MARCHAR DIREITO
VAI PRESO PRO QUARTEL

O QUARTEL PEGOU FOGO
A POLÍCIA DEU SINAL
ACORDA! ACORDA! ACORDA!
A BANDEIRA NACIONAL



DEPOIS DE LER O TEXTO, RESPONDA:

1- QUEM É O PERSONAGEM PRINCIPAL DA CANTIGA?

2- SE O SOLDADO NÃO MARCHAR DIREITO ELE FICARÁ PRESO EM QUAL LUGAR?



3- O QUE ACONTECEU NO QUARTEL?

4- QUANDO O QUARTEL PEGOU FOGO O QUE O SOLDADO TEVE QUE SALVAR?

5- VOLTE NO TEXTO E PINTE AS RIMAS.

6- VAMOS ACHAR NO CAÇA PALAVRAS ALGUMAS PALAVRAS DA CANTIGA, PINTANDO-AS

E	R	T	Y	U	I	O	P	Q	A
B	Z	M	A	R	C	H	A	C	D
O	Q	U	A	R	T	E	L	V	B
M	E	F	G	H	F	O	G	O	J
B	K	L	Ç	Z	X	C	S	V	B
E	P	N	M	W	S	D	O	F	N
I	A	A	S	F	G	D	L	E	A
R	P	I	U	A	C	O	D	E	C
O	E	W	A	B	F	V	A	Y	I
B	L	N	C	A	X	M	D	A	O
W	Q	R	I	N	O	P	O	A	N
S	D	F	T	D	H	J	Y	M	A
Q	C	A	B	E	Ç	A	J	Y	L
A	D	K	E	I	A	F	B	E	I
X	C	H	L	R	O	Ç	P	O	U
Z	V	B	N	A	X	C	V	F	G

MARCHA – SOLDADO – CABEÇA – PAPEL - QUARTEL – FOGO - ACODE – BANDEIRA – NACIONAL – BOMBEIRO



7- SEPARE AS PALAVRAS ABAIXO EM SÍLABAS

MARCHA - _____

SOLDADO - _____

CABEÇA - _____

PAPEL - _____

QUARTEL - _____


BOMBEIRO - _____

BANDEIRA - _____

NACIONAL - _____

8- VAMOS COLORIR O QUEBRA CABEÇA

- Colorir, recortar e depois montar.

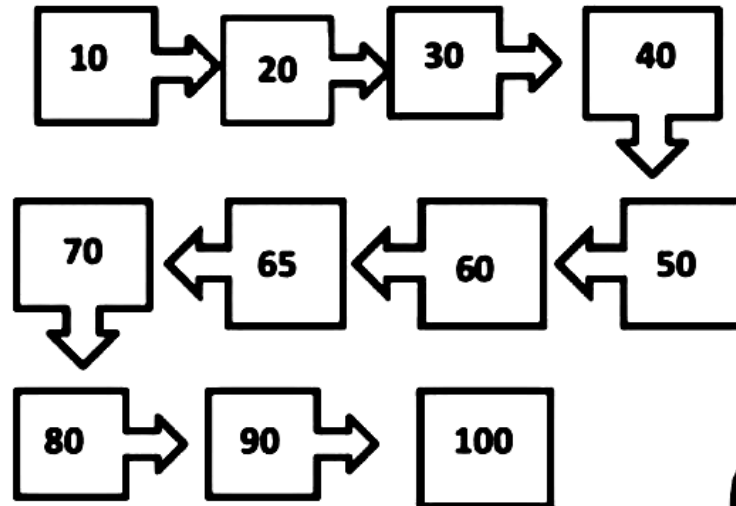


MONTE AQUI O SEU QUEBRA CABEÇA E ESCREVA UMA FRASE COM A PALAVRA SOLDADO ↓

MATEMÁTICA

RISQUE O NÚMERO QUE NÃO PERTENCE À SEQUÊNCIA.

ATENÇÃO: HÁ UM SEGREDO
NESSA SEQUÊNCIA!



ESCREVA COM ALGARISMOS OS SEGUINTE NÚMEROS.

- a) Vinte e três _____
- b) Noventa e sete _____
- c) Oitenta _____
- d) Setenta e quatro _____
- e) Quarenta e um _____
- f) Dezessete _____
- g) Cinquenta e dois _____
- h) Trinta e dois _____



COMPONHA OS NÚMEROS:



- a) $30 + 20 + 10 + 5 =$ _____
- b) $20 + 20 + 10 + 9 =$ _____
- c) $30 + 30 + 10 + 1 =$ _____
- d) $40 + 10 + 20 + 1 =$ _____
- e) $20 + 30 + 20 + 5 =$ _____
- f) $10 + 10 + 30 + 8 =$ _____



2. COMPLETE O QUADRO NUMÉRICO.

© direitos reservados www.danieleducar.com.br

44								52	
86					91				
			77					82	

3. RESOLVA E CALCULE AS OPERAÇÕES.

$\begin{array}{r} 43 \\ +2 \\ \hline \end{array}$	$\begin{array}{r} 62 \\ +1 \\ \hline \end{array}$	$\begin{array}{r} 35 \\ +2 \\ \hline \end{array}$	$\begin{array}{r} 93 \\ -7 \\ \hline \end{array}$	$\begin{array}{r} 48 \\ -4 \\ \hline \end{array}$	$\begin{array}{r} 64 \\ -3 \\ \hline \end{array}$
---	---	---	---	---	---

4. ESCREVA OS NÚMEROS POR EXTENSO:

99 _____ 46 _____
 100 _____ 87 _____
 66 _____ 21 _____

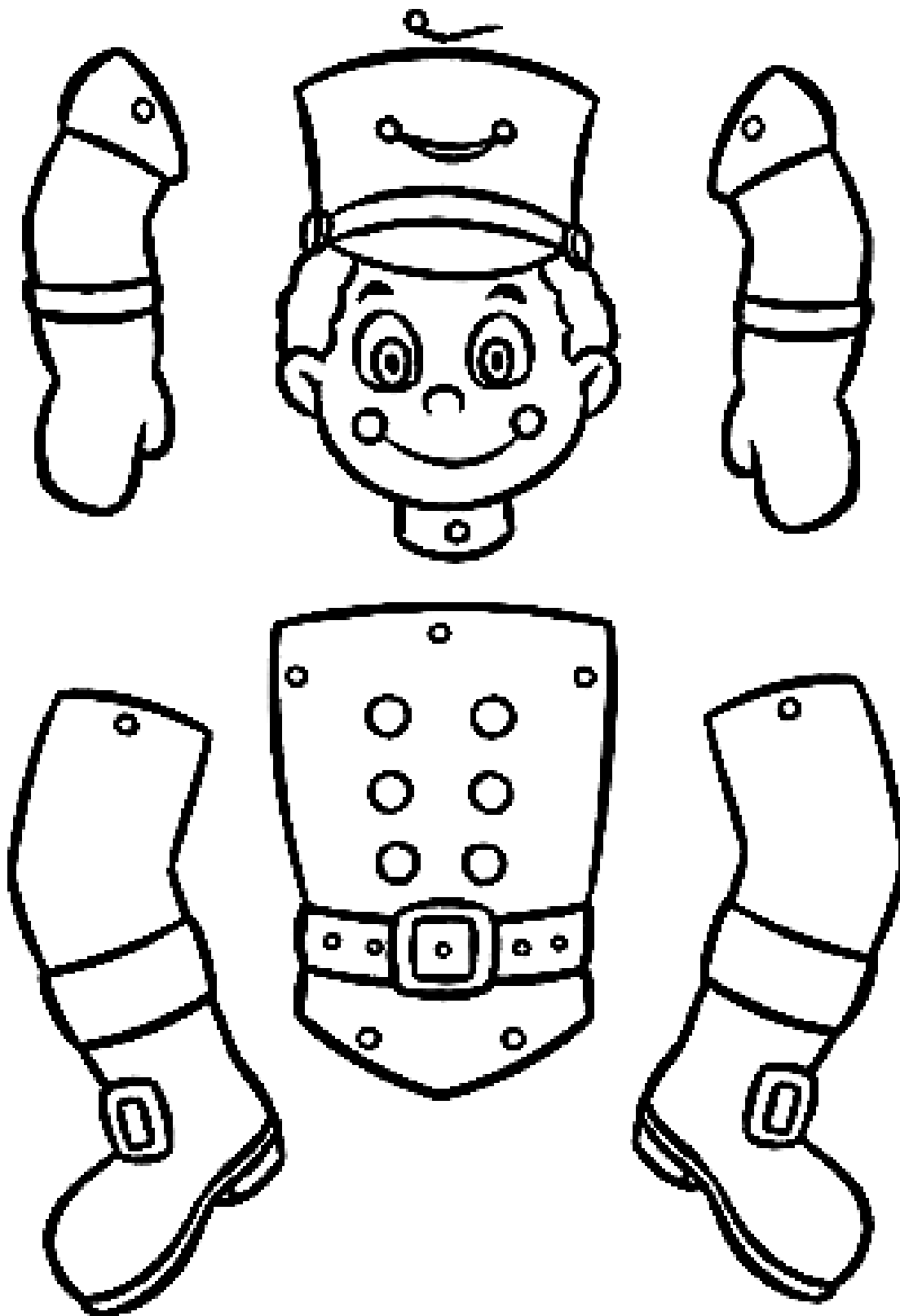
5. LEIA SITUAÇÃO PROBLEMA E RESOLVA.

NA FEIRINHA DA CIDADE SUBIRAM AS VENDAS DE FRUTAS. NA PRIMEIRA SEMANA VENDERAM 56 PÊSSEGOS E NA SEGUNDA SEMANA VENDERAM 44. QUANTOS PÊSSEGOS FORAM VENDIDOS NAS DUAS SEMANAS?

RESPOSTA: _____

PSICOMOTRICIDADE

VAMOS MONTAR UM SOLDADINHO ARTICULADO. PINTE O DESENHO, RECORTE E MONTE COM UM PEDAÇO BARBANTE:



**27º ROTEIRO
LÍNGUA PORTUGUESA**

VAMOS LER O TEXTO ABAIXO:

INDEPENDÊNCIA DO BRASIL

A INDEPENDÊNCIA DO BRASIL É UM DOS FATOS HISTÓRICOS MAIS IMPORTANTES DE NOSSO PAÍS, POIS MARCA O FIM DO DOMÍNIO PORTUGUÊS E A CONQUISTA DA AUTONOMIA POLÍTICA.

MUITAS TENTATIVAS ANTERIORES OCORRERAM E MUITAS PESSOAS MORRERAM NA LUTA POR ESTE IDEAL. PODEMOS CITAR O CASO MAIS CONHECIDO: TIRADENTES. FOI EXECUTADO PELA COROA PORTUGUESA POR DEFENDER A LIBERDADE DE NOSSO PAÍS, DURANTE O PROCESSO DA INCONFIDÊNCIA MINEIRA.



<http://www.suapesquisa.com/independencia/>

1. O TEXTO ACIMA TEM A FINALIDADE DE:

- () DIVERTIR O LEITOR () INFORMAR O LEITOR
() DAR UMA NOTÍCIA () TRANSMITIR UM ENSINAMENTO

2. NO TRECHO "... POIS MARCA O FIM DO DOMÍNIO PORTUGUÊS." A QUAL PAÍS SE REFERE A PALAVRA PORTUGUÊS?

- () AO BRASIL () A PORTUGAL () AO PARAGUAI

3. A EXPRESSÃO "AUTONOMIA POLÍTICA" SIGNIFICA QUE:

- () O BRASIL SE TORNARA UM PAÍS INDEPENDENTE.
() O BRASIL CONTINUARIA OBEDECENDO ORDENS VINDAS DE PORTUGAL.
() O BRASIL TERIA UM NOVO PRESIDENTE.

4. PRA VOCÊ O QUE SIGNIFICA A PALAVRA "LIBERDADE".



♥ OBSERVE A PALAVRA "**BRASIL**" E RESPONDA.

- QUANTAS VEZES VOCÊ ABRE A BOCA PARA FALAR ESTA PALAVRA?

- QUAL É O PRIMEIRO PEDACINHO DA PALAVRA?

CADA VEZ QUE VOCÊ ABRE A BOCA PARA FALAR AS PARTES DE UMA PALAVRA, ESTÁ FALANDO UMA **SÍLABA**. OS PEDACINHOS SÃO CHAMADOS DE **SÍLABAS**.

● AGORA LEIA E COLOQUE O NÚMERO DE SÍLABAS.


BRASILEIRO

PÁTRIA

PAÍS

JUSTIÇA

CRIANÇA



♥ LEIA E CIRCULE AS PALAVRAS QUE COMEÇAM COM A PRIMEIRA SÍLABA DA PALAVRA "**BRASIL**".

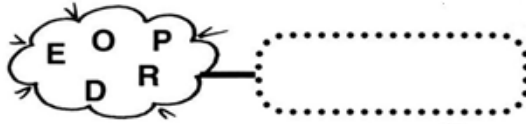
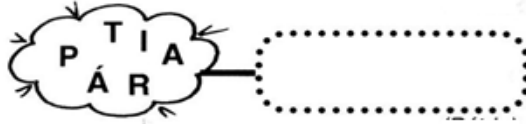
BRÓCOLIS – BRAÇO – BREJO – BRINCO – BRAVO – BRILHANTE

BRACELETE – BRUXA – BRAÇADEIRA – BRUNA – BRASÍLIA –

BRASÃO – BROTA – BRUNO – BRÍGIDA – BRENO – BRASA



VAMOS FORMAR AS PALAVRAS ABAIXO:



4) Completar o quadro com as letras faltosas:






P		R	T		G		L
A	L	E			I	A	
G	R		T				
V		V					
P	Á				I	A	

FAÇA UM ACRÓSTICO COM A PALAVRA BRASIL

B	
R	
A	
S	
I	
L	

FAZENDO GRÁFICO:

RINO TEM MUITOS AMIGOS E RESOLVEU MONTAR UMA TABELA COMPARANDO A IDADE DELES. PINTE A QUANTIDADE DE QUADRADINHOS CONFORME A IDADE DE CADA UM, E VEJA O QUANTO FALTA PARA COMPLETAR 1 DEZENA EM CADA UM.

Pedro: 6 anos 										
Carla: 8 anos 										
Vera: 7 anos 										
José: 5 anos 										
Ana: 7 anos 										

PARA PEDRO FALTAM _____ ANOS PARA COMPLETAR UMA DEZENA.

PARA CARLA FALTAM _____ ANOS PARA COMPLETAR UMA DEZENA.

PARA VERA FALTAM _____ ANOS PARA COMPLETAR UMA DEZENA.

PARA JOSÉ FALTAM _____ ANOS PARA COMPLETAR UMA DEZENA.

PARA ANA FALTAM _____ ANOS PARA COMPLETAR UMA DEZENA.



PSICOMOTRICIDADE

VAMOS MONTAR A BANDEIRA DO BRASIL!!

